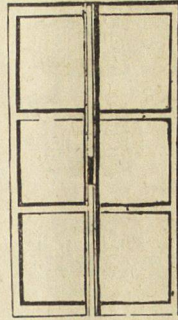




Ако единъ прозорецъ има 6 прѣградки, то колко пжти по 6 прѣградки ще има въ два сжщо таквызъ прозорци? А колко сж скупомъ преградки-тѣ и на двата прозорца?



Раздѣлете дванадесять бжчви, на два рѣда. По колко ще дождѣтъ въ сѣкый рѣдъ?



Раздѣлете ми дванадесять бжчви въ три рѣда; по колко ще бждѣтъ въ сѣкый рѣдъ?

