



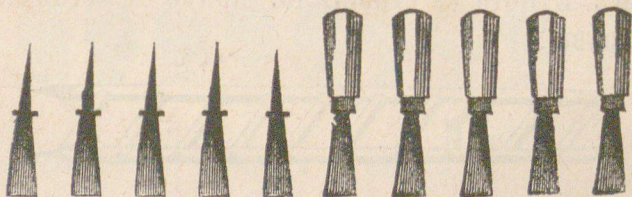
Колко стъкленици има тука? Тритѣ нѣ-  
мжтъ затикалки, а колко гы имжтъ?



Колко свѣщи има тука? 4 тѣхъ негорѣтъ,  
а колко горѣтъ?



Отъ 10 длѣта 5 тѣхъ нѣмжтъ рачалки.  
Колко сж съ рачалки?



Колко кравайченца има тука? Отъ 6 тѣхъ  
е отчупено помалко, колко сж останѣли цѣли?

