
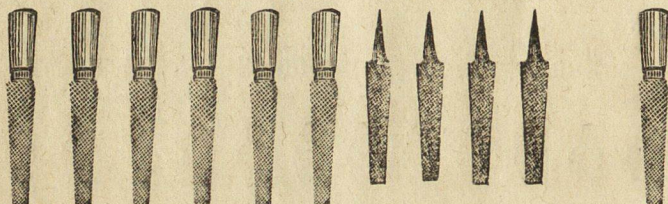



Колко ножове има тука? Тритѣхъ нѣ-
мѣтъ бодове (върхове); колко оставѣтъ съ
бодове?



А колко пили има тукъ? 4 отъ тѣхъ
нѣмѣтъ рачалки; колко сѣ съ рачалки?



Колко звѣзды сѣ: три пѣти по три и
още 2 звѣзды?



12.

Дванадесѣтъ.

10 звѣнчета и още 2 при тѣхъ, колко
ставѣтъ?

