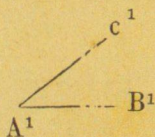


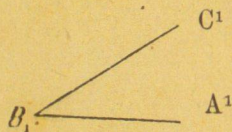
## Печатни погрѣшки.

Стр. редъ	напечатано	чети
4 16	отъ горѣ различieto	различieto
4 3	отъ долу лини	линии
5 1 и 2	отъ горѣ истинни	истини
5 8	„ истинната	истинната

7



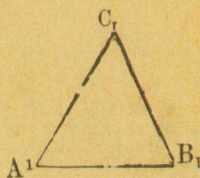
Чер. 5.



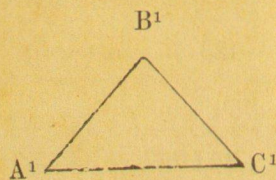
Чер. 5.

8 15	отъ горѣ наричатъ	наричатъ
8 26	„ перпендикуляра	перпендикуляра
13 16	отъ долу тригълници	тригълници
16 17	отъ горѣ $AB=A_1B_1$ $BC=B_1C_1$	$AB=A_1B_1$ , $BC=B_1C_1$

19



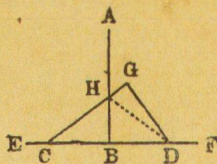
Чер. 36.



Чер. 36.

22 21	отъ горѣ прѣдложенiето	прѣдположенieto
24 14	отъ горѣ права	правата

25



Чер. 51.

25 18	отъ горѣ неолпендикуляра	перпендикуляра
25 10	отъ долу $AC^1D$	$ACD^1$